



RAGIONASCACCHI



Luca e Giovanna spendono, per acquistare due scacchiere, 55,50 €.

Giovanna spende più soldi di Luca per la sua scacchiera.

Se la differenza tra i costi delle due scacchiere è di 12,50 €, quanto costa la scacchiera di Giovanna? E quella di Luca?

RISOLVO



5°
4°
3°
2°
1°

Di fronte alla casa di Carla hanno costruito di recente un palazzo che ospiterà un centro estetico, un negozio di giocattoli, un parrucchiere, uno studio dentistico e una erboristeria.

Carla deve andare al negozio di giocattoli per comperare una scacchiera da regalare al nonno. A che piano deve andare sapendo che:

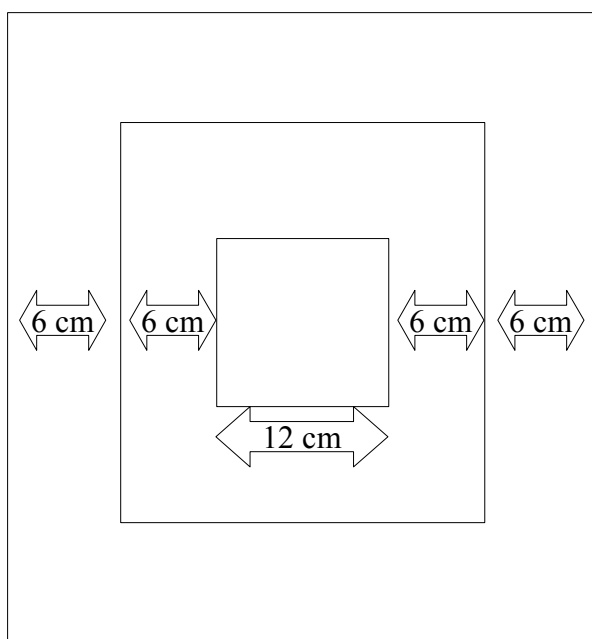
- l'erboristeria è immediatamente sotto lo studio dentistico
- il centro estetico non si trova né al 4° né al 5° piano
- il parrucchiere è sopra il negozio di giocattoli e sotto il centro estetico.

RAGIONASCACCHI

Nathan è un appassionato della storia egizia e ha letto che in un tempio, su di una pietra, è incisa una strana scacchiera.

Essa è formata da 3 quadrati: il primo ha il lato 12 cm, il secondo dista dal primo di 6 cm per parte e il terzo dista dal secondo di 6 cm per parte.



Osserva il disegno e calcola il perimetro dei tre quadrati.



A large empty rectangular box intended for the student to write their solution to the problem.



RAGIONASCACCHI



Quattro amici stanno pensando al modo in cui passare il pomeriggio.

- ◆ Leo pensa di andare a pescare al lago ma non da solo.
- ◆ Alessandro non ama andare al lago ma vorrebbe giocare a scacchi.
- ◆ Luca preferisce la compagnia di Alessandro e non quella di Leo.
- ◆ Gabriele è ancora indeciso tra andare a pescare o a giocare con Alessandro.

Leggi le seguenti affermazioni e indica se sono vere o false.

Alessandro preferisce gli scacchi alla pesca.		
Gabriele andrà a pescare con Leo ma non andrà a giocare a scacchi.		
Luca non andrà a pescare con Leo.		
Leo andrà a pescare ma da solo		

